



Naam:.....



## Cadeautjes splitsen


Er zijn zes cadeautjes. Aan de ene kant staan er al een paar. Hoeveel moet jij er aan de andere kant tekenen om samen zes te krijgen?







	
---	--

  	
---	--

 	
---	--

    	
---	--

   	
---	--

