



Naam:

Buurgetallen

Weet jij welke getallen naast het verliefde getal moeten?

26

34

18

39

21

27

32

15

13

Verliefde harten

Kun jij de verliefde harten weer compleet maken? Samen moeten ze 10 zijn











Naam:

Dobbelsteenharten

Hoeveel stippen hebben deze dobbelsteenharten bij elkaar?



Hoeveel samen?

Schrijf het antwoord in het lege hartje

