



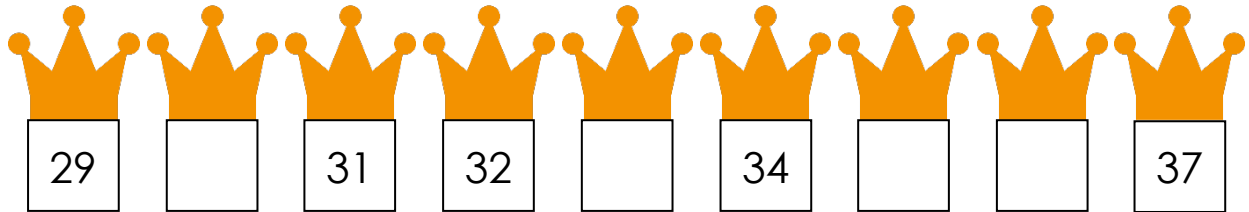
Naam: .....



# Koningsommen

## Getallenlijn

Koningin Maxima zet haar kroontjes graag in de goede volgorde, maar er missen een paar getallen. Kun jij ze invullen?



## Klokkijken

Hoe laat moet koning Willem Alexander bij een afspraak zijn?



..... UUR



..... UUR



..... UUR



..... UUR



..... UUR



..... UUR




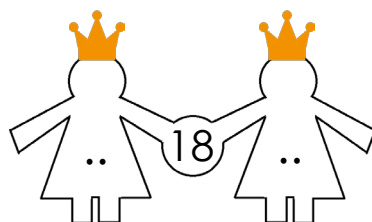
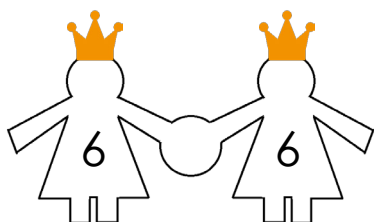
..... UUR



..... UUR

## Tweelingen

Maak jij deze koninklijke tweelingen compleet?





Naam: .....

### Rekenrek







Prinses Ariane moet nog wat sommen op het rekenrek oefenen. Help je haar mee?

<input type="text"/>	<input type="text"/>	<input type="text"/>

<input type="text"/>	<input type="text"/>	<input type="text"/>

### Geld

Koning Willem Alexander wil zijn geld tellen. Help jij hem mee?

 <p>..... euro</p>	  <p>..... euro</p>
 <p>..... euro</p>	  <p>..... euro</p>

### Sommen

Bedenk een som bij deze antwoorden. De laatste mag je zelf bedenken.

.... + .... = 10	.... + .... = 12	.... + .... = 8	.... - .... = 6	.... - .... = ....
------------------	------------------	-----------------	-----------------	--------------------

